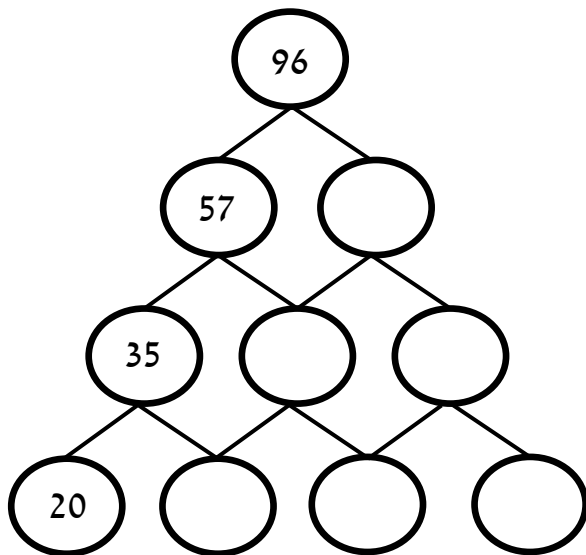
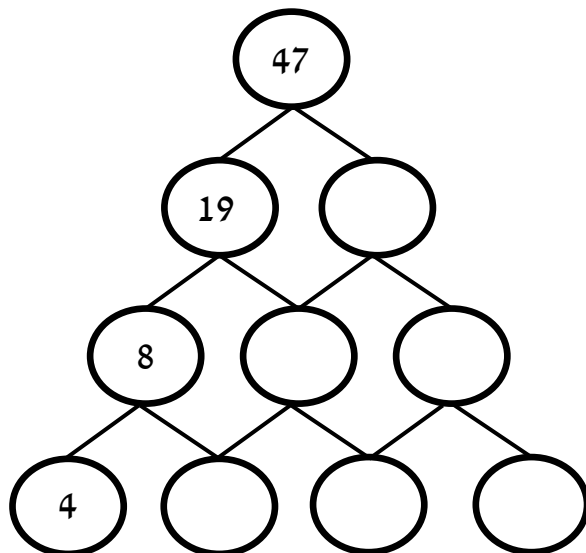


בְּכֹל חִיבוּר שֶׁל שְׁנֵי עֵיגוּלִים סְמוּכִים בְּפִרְמִידָה צְרִיף לְהִתְקַבֵּל
 הַמְסָפֵר שְׁמַעְלֵיהֶם. הַשְּׁלִימוּ אֶת הַמְסָפְרִים הַחֲסָרִים.

.1



.2



עֲלִיכֶם לְהַשְׁלִים אֶת הַמְסַפְּרִים הַחֲסָרִים כְּדֵּי שֶׁהַסְּכּוּם שֶׁל כָּל שׁוּרָה וְשֶׁל כָּל טוֹר יִהְיֶה שׁוֹוֶה לַמְסַפֵּר הַכְּתוּב בַּמְסַנְּרָת.

1.

	23	16	8	
14				14
18	8		1	18
15	9		2	15
	23	16	8	

2.

	16	15	16	
18	6		6	18
12		4		12
17	6		6	17
	16	15	16	

בחרו את התשובה הנכונה לפי התיאור המופיע בשאלה.

1. לפניכם שני משפטים הנוגעים למדינה מסוימת.
 בחרו את המדינה המתאימה לשני המשפטים.

א. בדגל המדינה לא מופיע הצבע אדום

ב. בשם המדינה מופיעה האות זי




ספרד



ישראל




ברזיל



יפן



זימבבואה



איטליה

2. פענחו את המדינה המתאימה.

צבע ירוק מסמל אות נכונה במיקום הנכון.

צבע צהוב מסמל אות נכונה אך במיקום שגוי.

צבע אדום מסמל אות שגויה.

קבעו מהי המילה הנכונה.

ירוק

אדון

_____ : המדינה

מצאו את ערכו של כל ציור, ופתרו את התרגיל בהתאם.

.2

$$40 - \text{fox} = 31$$

$$4 \times \text{octopus} = 16$$

$$\text{fox} - \text{octopus} = \underline{\quad}$$

$$\text{fox} = \underline{\quad} \quad \text{octopus} = \underline{\quad}$$

.1

$$\text{chicken} : 4 = 4$$

$$\text{crocodile} \times 5 = 45$$

$$\text{chicken} - \text{crocodile} = \underline{\quad}$$

$$\text{crocodile} = \underline{\quad} \quad \text{chicken} = \underline{\quad}$$

.4

$$\text{snail} - 7 = 0$$

$$9 \times \text{ladybug} = 54$$

$$\text{snail} \times \text{ladybug} = \underline{\quad}$$

$$\text{ladybug} = \underline{\quad} \quad \text{snail} = \underline{\quad}$$

.3

$$\text{caterpillar} : 2 = 36$$

$$\text{panda} \times 4 = 36$$

$$\text{caterpillar} : \text{panda} = \underline{\quad}$$

$$\text{panda} = \underline{\quad} \quad \text{caterpillar} = \underline{\quad}$$

בחרו את התשובה הנכונה לפי התיאור המופיע בשאלה.


1. לפניכם שני משפטים הנוגעים לאחד המאכלים. בחרו את המאכל המתאים לשני המשפטים.

א. מזוהה עם חג הפסח


ב. שמו מורכב משלוש אותיות



לביבה



חזרת



מצה



כרפס



אגס



סופגנייה

2. פענחו את המאכל המתאים.

צבע ירוק מסמל אות נכונה במיקום הנכון.

צבע צהוב מסמל אות נכונה אך במיקום שגוי.

צבע אדום מסמל אות שגויה.

קבעו מהי המילה הנכונה.

פתרה

תמיד

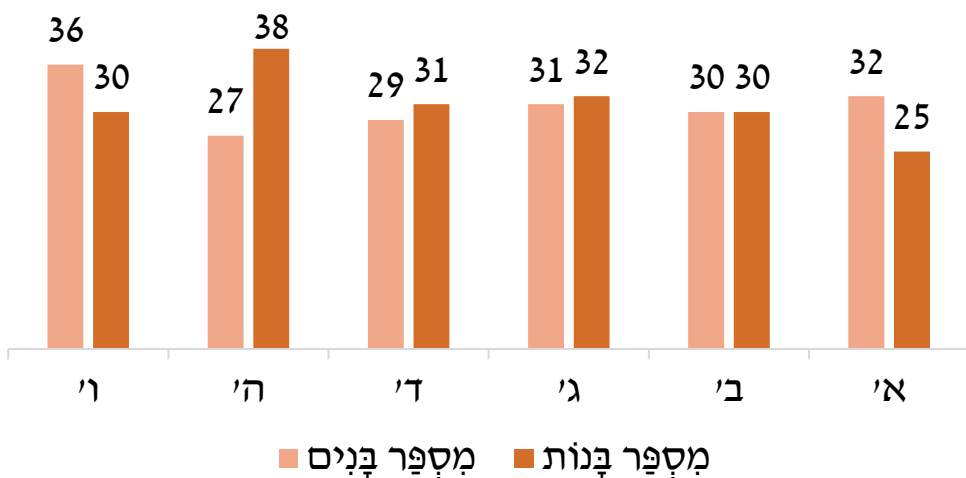
דירה

_____ : המאכל :

השלימו את המספרים והסימנים החסרים. את התרגילים יש לפתור משמאל לימין או מלמעלה למטה. התרגילים לא בהכרח פתירים מימין לשמאל או מלמטה למעלה.

25	+	10	=					
-					-			
					16			
=					=			
18	+	1	=		-	16	=	3
+								
14					8			26
=					=			=
	-	5	=		+	2	=	
					+			
					23			2
					=			=
				50			=	31

התְרָשִׁים שֶׁלפְּנִיכֶם מְצִיג אֶת מִסְפֵּר הַבָּנִים וְהַבָּנוֹת בְּשִׁכְבוֹת
הַשּׁוֹנוֹת בְּבֵית הַסֵּפֶר.



1. באיזו שכבה מספר הבנים והבנות שווה? _____

2. באילו שכבות יש יותר בנים מבנות? _____

3. כמה ילדים יש בסך הכל בשכבת ב'? _____

4. באיזו שכבה מספר הילדים הוא הגדול ביותר? _____

5. לשכבת ה' נוספה פיתה חדשה ובה 13 בנים ו-14 בנות.

כמה ילדים יש בסך הכל בשכבה לאחר ההוספה?


השלימו את הטבלה.

רבות	רבים	יחידה	יחיד
		מחליקה	
צורחות			
			מרעיש
	צופים		
	מחממים		
			מדביק
מקימות			
	קופצים		
		חושבת	
			סוגר

הַתְּאִימוּ בֵּין שְׁתֵּי מִיָּלִים בְּעֵלוֹת אוֹתוֹ שׁוֹרֵשׁ.

- | | |
|-----------------|------------------|
| • מְמַלְכָּה | • טוֹעֵם |
| • צוֹעְדִים | • נִדְנָדָה |
| • נֶעַל | • שְׁחִיָּה |
| • טְעִים | • מְאָכְלִים |
| • הַתְּנַדְּנָד | • צְעָדָה |
| • אוֹכֵל | • הַתְּפַזֵּר |
| • תְּפִזּוֹרָת | • צְבָעוֹנִיּוֹת |
| • צְבָעָה | • מְלָכָה |
| • שׁוֹחָה | • נְעִילָה |

פענחו את הקוד לפי התיאור המופיע בשאלה.



1. א. הסכום של הקוד הוא 10.
 ב. הספרות בקוד מסודרות בסדר עולה.
 ג. כל ספרה מופיעה בקוד פעם אחת.

הקוד: _____

2. א. הסכום של הקוד הוא 36.
 ב. הקוד מורכב מספרה אחת בלבד.

הקוד: _____

3. א. הקוד מורכב מספרה אחת בלבד.
 ב. סכום הקוד הוא 6.

הקוד: _____

4. א. הספרות בקוד מסודרות בסדר יורד.
 ב. הסכום של הקוד הוא 9.

הקוד: _____