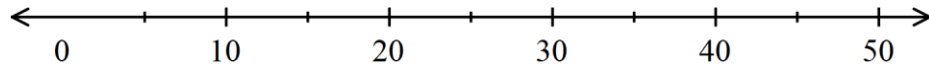


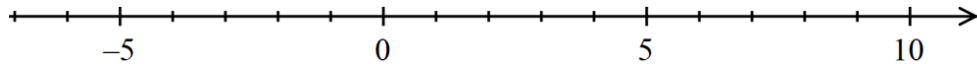
1. מקומו את המספרים הבאים על ציר המספרים:

.17, 41, 49, 2, 7, 22, 15, 35

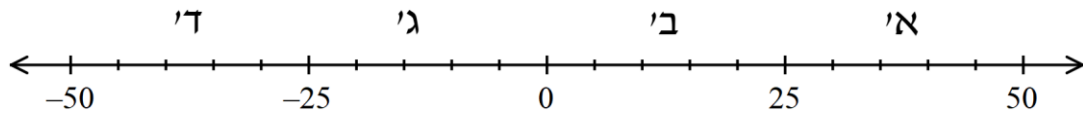


2. מקומו את המספרים הבאים על ציר המספרים:

-.7, 5, 6, -4, 1, -9, 9, 3, -2



3. עבור כל אחד מהמספרים הבאים, כתבו באיזה טווח הוא נמצא:



א. 15 : _____

ב. -17 : _____

ג. 28 : _____

ד. -30 : _____

ה. 5 : _____

ו. 49 : _____

ז. 23 : _____

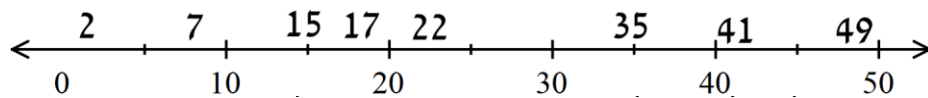
ח. -1 : _____

ט. -27 : _____

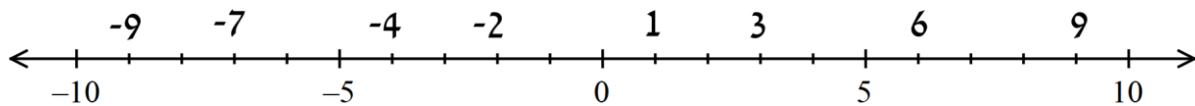
תשובות

1. מקומו את המספרים הבאים על ציר המספרים:

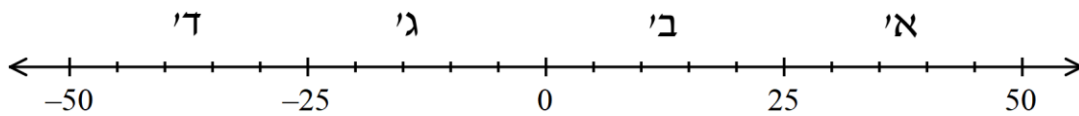
.17, 41, 49, 2, 7, 22, 15, 35



-.7, 6, -4, 1, -9, 9, 3, -2



3. עבור כל אחד מהמספרים הבאים, כתבו באיזה טווח הוא נמצא:



א. 15 : ב'

ב. -17 : ד'

ג. 28 : א'

ד. -30 : ד'

ה. 5 : ב'

ו. 49 : א'

ז. 23 : ב'

ח. -1 : ד'

ט. -27 : ד'